

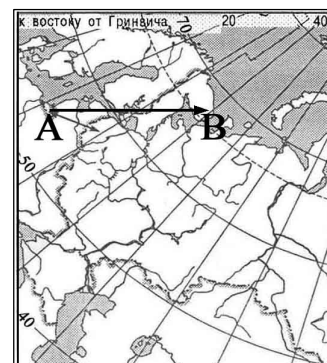
## Задания

школьной олимпиады по географии для учащихся 8 класса 2017-2018 уч.год  
Задания включают тестовый тур - 45 минут (12 вопросов, максимально 20 баллов) и  
теоретический тур – 90 минут (4 задания максимально 51 балл ).

**Тестовый тур. Время выполнения заданий – 45 минут**

**1. Какому направлению соответствует направление А – В на карте Европейской части России? Выбери один правильный ответ из четырех и обведи его номер.**

- 1) север
- 2) северо-восток
- 3) восток
- 4) юго-восток



**2. Какая из перечисленных стран граничат с Россией по суше.**

- 1) Болгария
- 2) Грузия
- 3) Турция
- 4) Япония

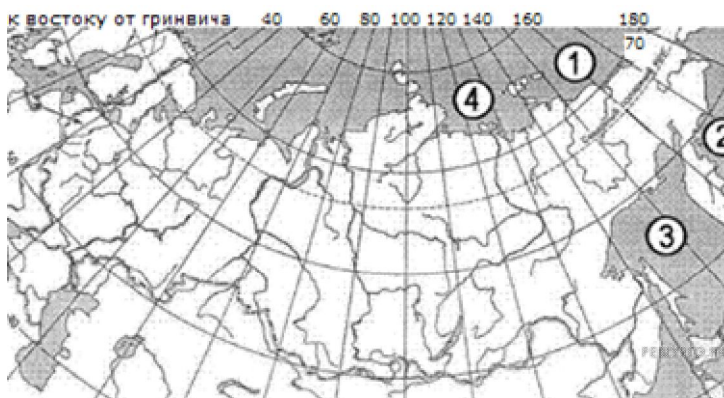
**3. Условная линия на географической карте, разделяющая Землю на Западное и Восточное полушарие, называется**

- 1) Нулевой меридиан
- 2) Южный тропик
- 3) Серенный тропик
- 4) Экватор

**4. Концентрация содержания данного вещества в составе воздуха атмосферы составляет 78%**

- 1) озон
- 2) азот
- 3) углекислый газ
- 4) кислород

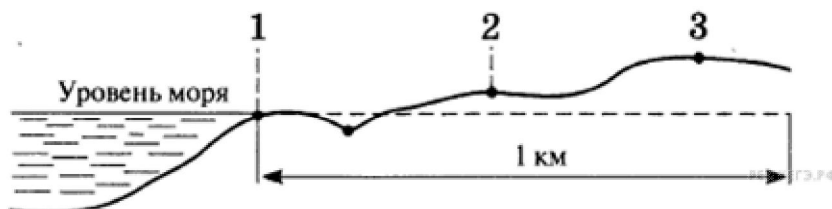
**5. На контурной карте море Лаптевых изображено под цифрой...**



## 6. Мировой океан занимает

- 1)  $\frac{3}{4}$  земной поверхности
- 2)  $\frac{2}{5}$  земной поверхности
- 3)  $\frac{1}{2}$  земной поверхности
- 4)  $\frac{1}{3}$  земной поверхности

7. В пунктах, обозначенных на рисунке цифрами, одновременно проводятся измерения атмосферного давления. В каком из предложенных пунктов давление самое низкое?



8. Группа туристов из Финляндии хочет своими глазами увидеть необычную для них природу русских степей. Какой из перечисленных заповедников для этого им необходимо посетить?

- 1) Курильский
- 2) «Остров Врангеля»
- 3) Оренбургский
- 4) Костомукшский

9. К традиционным занятиям какого из перечисленных народов России относится оленеводство?

- 1) ненцы
- 2) чуваш
- 3) башкиры
- 4) кабардинцы

10. Какой из перечисленных природных ресурсов является исчерпаемым возобновимым?

- 1) энергия ветра
- 2) плодородие почв
- 3) каменный уголь
- 4) энергия солнца

11. Самая длинная река в мире –

- 1) Нил
- 2) Амазонка
- 3) Волга
- 4) Конго

12. Туристические фирмы разных регионов России разработали слоганы (рекламные лозунги) для привлечения туристов в свои регионы. Какому региону России принадлежит слоган: Добро пожаловать на Телецкое озеро — горную жемчужину России!

- 1) Приморский край
- 2) Республика Алтай

- 3) Калининградская область
- 4) Чукотский АО

**13. В каком из перечисленных регионов России зимы наиболее холодные?**

- 1) Республика Коми
- 2) Сахалинская область
- 3) Республика Саха (Якутия)
- 4) Мурманская область

**14. На каком из перечисленных полуостровов находится крайняя северная материковая точка России?**

- 1) Кольский
- 2) Гыданский
- 3) Таймыр
- 4) Чукотский

**15. Какой из перечисленных портов Северного морского пути является незамерзающим?**

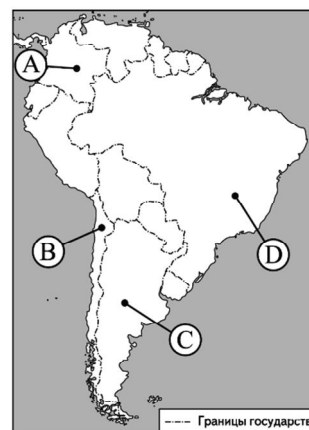
- 1) Мурманск
- 2) Диксон
- 3) Хатанга
- 4) Тикси

**16. Каким проливом отделён от материка остров Сахалин?**

- 1) Берингов
- 2) Лонга
- 3) Лаперуза
- 4) Татарским

**17. Какой буквой на карте Южной Америки изображена Бразилия?**

- 1) А
- 2) В
- 3) С
- 4) D



**18. Эндемитами Австралии являются:**

- 1) Гепарды, орангутанги
- 2) Утконосы, коалы
- 3) Пингвины, морские слоны
- 4) Страусы, зебры

**19. Самое глубокое море у берегов России:**

- 1) Охотское
- 2) Японское
- 3) Черное
- 4) Берингово

20. Снежные лавины — одно из наиболее грозных и опасных природных явлений. В каком из перечисленных регионов России снежные лавины представляют наибольшую опасность?

- 1) Калининградская область
- 2) Кабардино-Балкарская Республика
- 3) Республика Марий Эл
- 4) Архангельская область

### Теоретический тур (время выполнения 90 минут)

#### Задание №1.

*«... кедр корейский, абрикос маньчжурский, лиственница сибирская, вишня японская, груша уссурийская, акация австралийская, орех грецкий, рябина шведская, туя западная, бузина канадская».*

Где на территории Белгородской области можно встретить все эти растения?

2 балла

#### Задание №2.

Руководствуясь инструкцией Петра I «искать где оная (Азия) сошлась с Америкой» и как далеко простирается на восток Российская держава, в 1725-1730 г.г. была совершена первая Камчатская экспедиция под руководством двух великих русских мореплавателей.

Ниже даны формулировки определений или географических названий. Запиши их значения и по первым буквам сложи фамилию одного из руководителей экспедиции. Какой географический объект был назван в его честь? Назови фамилию второго руководителя этой экспедиции.

- Прибор для измерения атмосферного давления \_\_\_\_\_
- Часть света. \_\_\_\_\_
- Деление территории на крупные районы. \_\_\_\_\_
- Одна из Мировых религий. \_\_\_\_\_
- Хозяйство, производящее абсолютно всё необходимое для жизни. \_\_\_\_\_
- Линия, определяющая пределы государственной территории. \_\_\_\_\_

Фамилия руководителя экспедиции \_\_\_\_\_

Географический объект названный в его честь \_\_\_\_\_

Фамилия второго руководителя экспедиции \_\_\_\_\_

9 баллов

#### Задание №3.

Внимательно изучите очерк об одном из континентов Земли и восполните пробелы в тексте (ответы запиши в таблицу!!!). Для этого пользуйтесь картами атласа и вашими знаниями по географии материков и океанов. Ответы занесите в бланк.

Название материка происходит от греческого слова «анти », т. е. лежащего против северной полярной области земного шара – \_\_\_\_ (1). Континент был открыт значительно позднее других, в \_\_\_\_ (2) году во время российской экспедиции на судах «Восток» и «Мирный» под командованием \_\_\_\_ (3) и \_\_\_\_ (4).

14 декабря 1911 г. норвежцем Р. Амундсеном, а месяцем позже 18 января 1912 года англичанином \_\_\_\_ (5) был достигнут \_\_\_\_ (6), имеющий географические координаты \_\_\_\_ (7).

По площади материк занимает \_\_\_\_ (8) место. Несмотря на это здесь достаточно много географических рекордов. Среди них, самый большой и мощный покровный \_\_\_\_ (9), который достигает толщины \_\_\_\_ (10) метров, в нём сосредоточено около \_\_\_\_ % (11) всех пресных вод Земли. Здесь же, на одном из прибрежных островов моря \_\_\_\_ (12), находится самый южный действующий вулкан – \_\_\_\_ (13), географическая широта которого \_\_\_\_ (14), и самый большой подлёдный водоём – озеро \_\_\_\_ (15), открытое российскими учёными. На континенте была зафиксирована самая низкая температура воздуха – \_\_\_\_ (16), а на \_\_\_\_ (6) наименьшее на Земле среднегодовое количество \_\_\_\_ (17). Характерная природная зона континента – \_\_\_\_ (18). Несмотря на суровые климатические условия, жизнь присутствует почти повсюду, символом животного мира материка, по праву считается нелетающая птица – \_\_\_\_ (19). Особенно богаты жизнью необычные участки с озёрами вблизи побережья материка, которые называют \_\_\_\_ (20).

№ пропуски	Ответ	№ пропуски	Ответ
1		11	
2		12	
3		13	
4		14	
5		15	
6		16	
7		17	
8		18	
9		19	
10		20	

За каждый правильный ответ – 1 балл, максимально – 20 баллов.

#### Задание № 4.

Определите по характерным представителям животного мира материк и природную зону. Впишите в таблицу соответствующие этой природной зоне климатический пояс и тип почв.

№	Характерные животные	Материк	Природная зона	Климатический пояс	Тип почвы
1	Гепард, гну, сервал, чёрный носорог				
2	Благородный олень, зубр, кабан, барсук, бобр				
3	Сайгак, суслик, сурок, дрофа, тушканчик				

4	Орангутанг, гиббон, дымчатый леопард, чепрачный тапир, тигр				
5	Ядозуб, тexasский гофер, гремучая змея, скорпион, вилорог				

За каждую правильно заполненную ячейку по **1 баллу**, максимально – **20 баллов**

